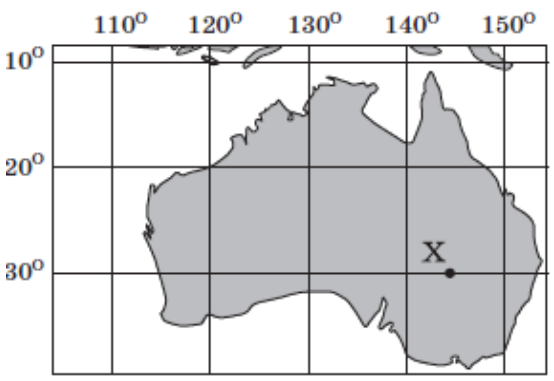
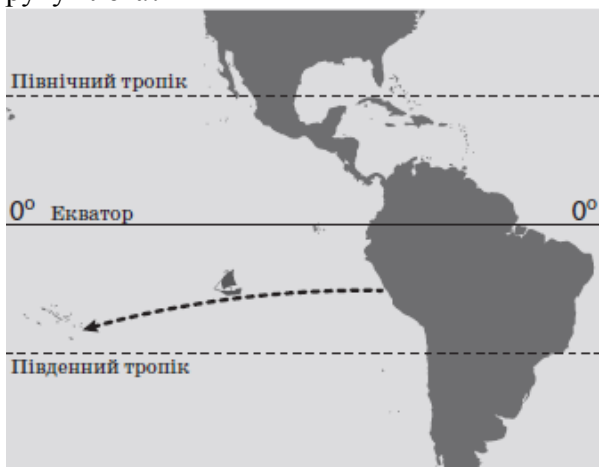
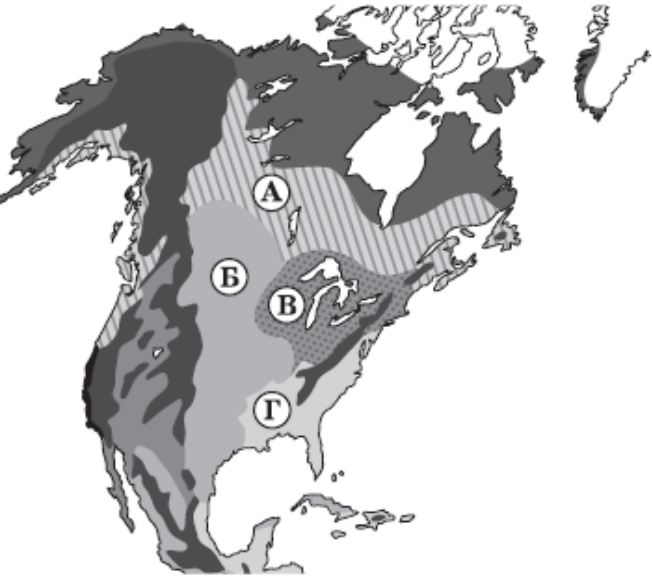

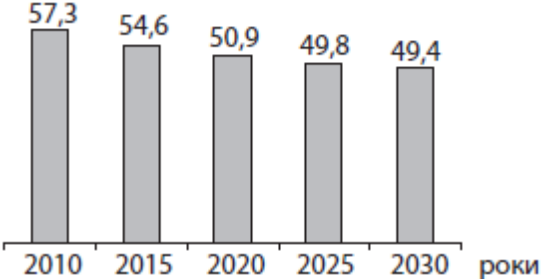

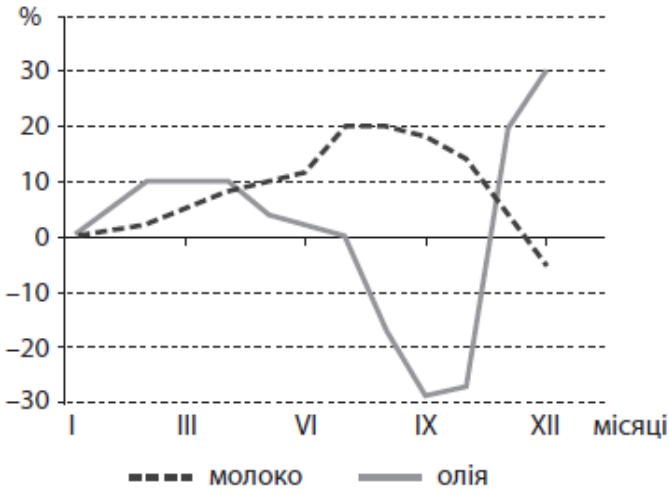




Зовнішнє незалежне оцінювання 2014 року з географії


№	Зміст завдання та правильна відповідь	Відповідність завдання Програми зовнішнього незалежного оцінювання з географії
1	<p>Яка подія відбулася на початку епохи Великих географічних відкриттів?</p> <p>відкрито Америку європейцями</p>	<p>Розвиток географічних досліджень. Найвизначніші географічні відкриття, видатні мандрівники</p>
2	<p>Різниця між тривалістю дня і ночі збільшується з наближенням до полюсів.</p>	<p>Загальні закономірності природи Землі</p>
3	<p>Визначте місцеположення географічного об'єкта, позначеного на карті точкою Х.</p>  <p>на південь від екватора, у східній півкулі</p>	<p>Способи зображення Землі. Визначення географічних координат об'єктів</p>
4	<p>Які гірські породи належать до групи органічних осадових?</p> <p>торф, буре вугілля</p>	<p>Літосфера. Будова та типи земної кори, породи та мінерали що її складають</p>
5	<p>Укажіть ознаку наближення цунамі до берега океанічної затоки.</p> <p>вода відступає від берега на сотні метрів</p>	<p>Гідросфера. Світовий океан. Рух води</p>
6	<p>Де знаходяться найбільші запаси прісної води на планеті?</p> <p>у льодовиках</p>	<p>Гідросфера.</p>
7	<p>Тур Хейєрдал здійснив плавання на «Кон-Тікі» – папірусному плоту з вітрилом від берегів Південної Америки до островів Туамоту. Що зумовило такий напрямок руху плоту?</p>  <p>пасат</p>	<p>Атмосфера та клімат. Загальна циркуляція атмосфери. Постійні вітри</p>

8	<p>У середині 1960-х років пестициди, що використовувалися на полях Канади і США, було виявлено в печінці пінгвінів в Антарктиді. Укажіть закономірність географічної оболонки, проявом якої є виявлення цих хімікатів в організмах пінгвінів.</p> <p>цілісність</p>	<p>Географічна оболонка. Загальні закономірності географічної оболонки</p>
9	<p>Яка протока сполучає Середземне море з Атлантичним океаном?</p> <p>Гібралтарська</p>	<p>Географія материків і океанів. Протоки</p>
10	<p>Укажіть особливість рельєфу Африки.</p> <p>переважають височини, плато, плоскогір'я</p>	<p>Африка. Геологічна будова та основні форми рельєфу материка</p>
11	<p>Яка погода спостерігається влітку в центральній частині Антарктиди?</p> <p>холодна (середня температура січня -30°C), сонячна</p>	<p>Антарктида. Клімат</p>
12	<p>Чим зумовлене надмірне зволоження Амазонської низовини?</p> <p>пануванням екваторіальних повітряних мас</p>	<p>Південна Америка. Клімат материків.</p>
13	<p>Якою буквою на карті Північної Америки позначено природну зону лісостепів і степів?</p>  <p>Б</p>	<p>Північна Америка. Природні зони</p>
14	<p>Прочитайте опис одного з озер Євразії: «Раніше озеро було одним із найбільших у світі. Від початку 60-х років ХХ століття його площа скоротилася в кілька разів, а там, де колись була вода, утворилася пустеля. Акваторію озера проголошено зоною екологічного лиха». Про яке озеро йдеться?</p> <p>Аральське</p>	<p>Євразія. Води суходолу: озера</p>
15	<p>Чому в Альпах немає гірського поясу тропічних лісів?</p> <p>гори розташовані в помірних широтах</p>	<p>Євразія. Висотна поясність</p>
16	<p>У якому географічному поясі знаходяться крайні північна і східна точки України?</p> <p>помірному</p>	<p>Географічне положення, формування території України</p>
17	<p>У межах якої тектонічної структури на території України знаходиться кам'яновугільний басейн?</p> <p>Галицько-Волинського (Львівського) прогину</p>	<p>Природні умови і ресурси України. Закономірності поширення, характеристика паливних корисних копалин</p>

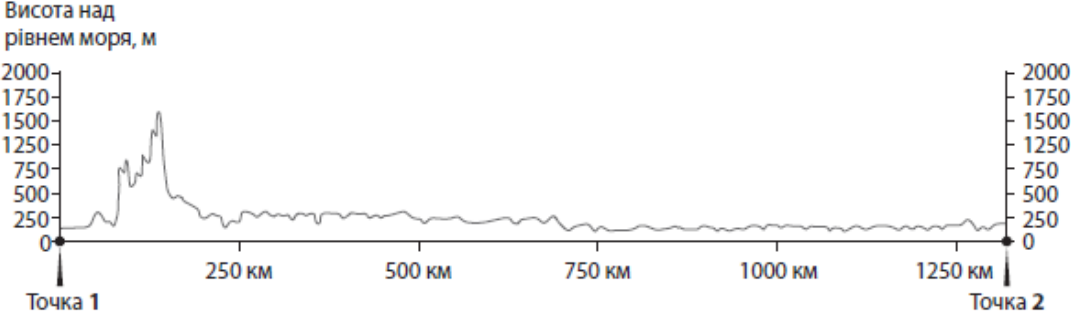
18	<p>Чим зумовлене зростання континентальності клімату України з північного заходу на південний схід?</p> <p>поступовим віддаленням від Атлантичного океану</p>	<p>Природні умови і ресурси України. Кліматичні умови.</p>
19	<p>Укажіть регіон України, у якому річки глибоко врізаються у вапняки й пісковики, утворюючи каньйоноподібні долини.</p> <p>Поділля</p>	<p>Природні умови і ресурси України. Річки</p>
20	<p>Фермер на своїй земельній ділянці, що розташована на крутому схилі, заклав тераси (див. рисунок). Через кілька років став помітним результат такого підходу до землекористування –</p>  <p>призупинився процес змиву ґрунту.</p>	<p>Природні умови і ресурси України. Ґрунти. Охорона ґрунтів.</p>
21	<p>Який тип рослинності найбільш поширений як на заплавах річок, так і на полонинах Українських Карпат?</p> <p>лучна</p>	<p>Природні умови і ресурси України. Рослинний світ</p>
22	<p>Через ділянку лісу планується прокласти швидкісну автомобільну магістраль. Який негативний вплив автобану на природу потрібно спрогнозувати експертам цього проекту?</p> <p>зміну міграційних шляхів тварин</p>	<p>Використання природних умов і ресурсів та їх охорона. Зміна природних компонентів під впливом господарської діяльності людини</p>
23	<p>Чим зумовлене істотне перевищення частки жінок у статевій структурі населення України?</p> <p>тривалість життя жінок більша, ніж чоловіків</p>	<p>Населення України. Демографічна ситуація. Статеві структура населення</p>
24	<p>Визначте основну причину прогнозованих змін в обсягах споживання природного газу (у млрд м³) в Україні, які відображено на діаграмі.</p>  <p>упровадження в Україні енергозберігаючих виробничих технологій</p>	<p>Господарство України. Газова промисловість</p>
25	<p>Укажіть центр літакобудування в Україні.</p> <p>Харків</p>	<p>Господарство України. Машинобудування.</p>
26	<p>Чим темнішим кольором позначена область на картограмі, тим більшою є частка цієї області в загальному обсязі виробництва в Україні</p>	<p>Господарство України. Географія чорної металургії.</p>

	 <p>чорних металів.</p>	
27	<p>У багатьох промислових центрах Донбасу й Придніпров'я поблизу металургій-них комбінатів розташовано коксохімічні заводи.</p>	<p>Господарство України. Географія окремих виробництв хімічної промисловості</p>
28	<p>Який чинник зумовив найбільшу в Україні концентрацію виробництва товарного бетону в м. Києві?</p> <p>споживчий</p>	<p>Господарство України. Промисловість будівельних матеріалів</p>
29	<p>Укажіть підприємство, на якому виробництво основної продукції повністю залежить від імпорту сировини.</p> <p>Миколаївський глиноземний завод</p>	<p>Господарство України. Кольорова металургія</p>
30	<p>У якому з наведених економічних районів України частка рекреаційних послуг у структурі його валового продукту є найбільшою?</p> <p>Карпатському</p>	<p>Господарство України. Рекреаційно-туристське господарство. Економічні райони</p>
31	<p>Укажіть пріоритетний напрям розвитку залізничного транспорту в Україні.</p> <p>упровадження швидкісного руху пасажирських поїздів</p>	<p>Господарство України. Залізничний транспорт</p>
32	<p>Проаналізуйте відображені на графіку темпи збільшення/зменшення обсягів виробництва молока та олії протягом року і визначте основну причину такої динаміки цих показників.</p>  <p>сезонний характер виробництва цих видів продукції або сировини</p>	<p>Господарство України. Харчова промисловість. Сільське господарство</p>
33	<p>Укажіть найпоширеніший на політичній карті світу тип держави.</p> <p>республіка</p>	<p>Сучасна політична карта світу. Форми правління й</p>

		адміністративно-територіальний устрій країн.												
34	Який вид природних ресурсів має зональний характер поширення на планеті? лісові угіддя	Взаємодія суспільства і природи. Природні ресурси материків і океанів, їх класифікація												
35	Укажіть регіон, для якого характерна наведена в таблиці динаміка частки (%) міського населення. <table border="1" data-bbox="194 372 901 483"> <thead> <tr> <th>Рік</th> <th>1950</th> <th>1970</th> <th>1990</th> <th>2000</th> <th>2010</th> </tr> </thead> <tbody> <tr> <td>Частка міського населення, %</td> <td>14,6</td> <td>23,0</td> <td>32,1</td> <td>39,0</td> <td>43,6</td> </tr> </tbody> </table> Африка	Рік	1950	1970	1990	2000	2010	Частка міського населення, %	14,6	23,0	32,1	39,0	43,6	Населення світу. Аналіз демографічних показників населення світу
Рік	1950	1970	1990	2000	2010									
Частка міського населення, %	14,6	23,0	32,1	39,0	43,6									
36	«Центральна вісь розвитку» господарства Західної Європи, що концентрує дві третини промислового потенціалу регіону, проходить з півдня Великої Британії до півночі Італії.	Регіони та країни світу. Загальна характеристика країн Європи												
37	Структуру експорту якої країни зображено на діаграмі?  Росії	Регіони та країни світу. Росія												
38	Укажіть головну рису територіальної структури господарства країн Латинської Америки. загальне зміщення економічної діяльності до океанічного узбережжя	Регіони та країни світу. Загальна характеристика країн Латинської Америки												
39	Укажіть групу країн, що є основними споживачами рафінованої міді. країни «Великої сімки»	Світове господарство. Металургія												
40	На карті позначено території десяти країн-лідерів за обсягом валового збору  рису.	Світове господарство. Сільське господарство												

41	<p>Який вид транспорту забезпечує понад 75 % перевезень вантажів між країнами світу?</p> <p>морський</p>	<p>Світове господарство. Транспорт</p>								
42	<p>Укажіть основну причину значного погіршення стану архітектурно-історичних пам'яток Європи у XX столітті.</p> <p>збільшення інтенсивності випадання кислотних дощів</p>	<p>Взаємодія суспільства і природи. Зміна взаємозв'язків між компонентами природи під впливом господарської діяльності людини. Порушення рівноваги в природних комплексах</p>								
43	<p>Установіть відповідність між тектонічною платформою та рівниною, якою частина цієї платформи виражена в рельєфі.</p> <table border="1" data-bbox="181 599 1289 750"> <tr> <td>Австралійська</td> <td>Центральна низовина</td> </tr> <tr> <td>Індостанська</td> <td>плато Декан</td> </tr> <tr> <td>Південноамериканська</td> <td>Бразильське плато</td> </tr> <tr> <td>Північноамериканська</td> <td>Великі рівнини</td> </tr> </table>	Австралійська	Центральна низовина	Індостанська	плато Декан	Південноамериканська	Бразильське плато	Північноамериканська	Великі рівнини	<p>Географія материків і океанів. Закономірності формування рельєфу</p>
Австралійська	Центральна низовина									
Індостанська	плато Декан									
Південноамериканська	Бразильське плато									
Північноамериканська	Великі рівнини									
44	<p>Установіть відповідність між позначеною цифрою на карті України природоохоронною територією та природними об'єктами, що охороняються в її межах.</p>  <table border="1" data-bbox="181 1335 1289 1486"> <tr> <td>1</td> <td>болотні угіддя, соснові та березові заболочені ліси</td> </tr> <tr> <td>2</td> <td>смерекові та ялицеві праліси</td> </tr> <tr> <td>3</td> <td>унікальні острови з прилеглими акваторіями та водно-болотними угіддями</td> </tr> <tr> <td>4</td> <td>ділянка справжнього лучного й чагарникового типчаково-ковилового степу</td> </tr> </table>	1	болотні угіддя, соснові та березові заболочені ліси	2	смерекові та ялицеві праліси	3	унікальні острови з прилеглими акваторіями та водно-болотними угіддями	4	ділянка справжнього лучного й чагарникового типчаково-ковилового степу	<p>Природні умови і ресурси України. Природні комплекси. Природоохоронні території</p>
1	болотні угіддя, соснові та березові заболочені ліси									
2	смерекові та ялицеві праліси									
3	унікальні острови з прилеглими акваторіями та водно-болотними угіддями									
4	ділянка справжнього лучного й чагарникового типчаково-ковилового степу									
45	<p>Установіть відповідність між промисловим центром та видом природних ресурсів, що зумовив спеціалізацію цього центру.</p> <table border="1" data-bbox="181 1625 1289 1776"> <tr> <td>Горлівка</td> <td>кам'яне вугілля</td> </tr> <tr> <td>Кривий Ріг</td> <td>залізна руда</td> </tr> <tr> <td>Моршин</td> <td>мінеральна вода</td> </tr> <tr> <td>Надвірна</td> <td>нафта</td> </tr> </table>	Горлівка	кам'яне вугілля	Кривий Ріг	залізна руда	Моршин	мінеральна вода	Надвірна	нафта	<p>Господарство України. Промисловість: сировинна база</p>
Горлівка	кам'яне вугілля									
Кривий Ріг	залізна руда									
Моршин	мінеральна вода									
Надвірна	нафта									
46	<p>Установіть відповідність між галуззю господарства та перспективним напрямом її розвитку в Україні.</p> <table border="1" data-bbox="181 1910 1289 2086"> <tr> <td>приладобудування</td> <td>створення технопарків і технополісів</td> </tr> <tr> <td>хімічна промисловість</td> <td>винесення окремих підприємств за межі великих міст</td> </tr> <tr> <td>газовидобувна промисловість</td> <td>освоєння шельфу Чорного та Азовського морів</td> </tr> <tr> <td>сільське господарство</td> <td>поглиблення зональної спеціалізації виробництва</td> </tr> </table>	приладобудування	створення технопарків і технополісів	хімічна промисловість	винесення окремих підприємств за межі великих міст	газовидобувна промисловість	освоєння шельфу Чорного та Азовського морів	сільське господарство	поглиблення зональної спеціалізації виробництва	<p>Господарство України. Промисловість: принципи та фактори розміщення галузей, проблеми й перспективи розвитку</p>
приладобудування	створення технопарків і технополісів									
хімічна промисловість	винесення окремих підприємств за межі великих міст									
газовидобувна промисловість	освоєння шельфу Чорного та Азовського морів									
сільське господарство	поглиблення зональної спеціалізації виробництва									

<p>47</p>	<p>Установіть відповідність між формою та прикладом міжнародного співробітництва України з країнами світу.</p> <table border="1" data-bbox="181 161 1289 453"> <tr> <td>міжнародна торгівля товарами</td> <td>експорт з України турбін для електростанції, що будується в Казахстані</td> </tr> <tr> <td>науково-технічне співробітництво</td> <td>участь України в міжнародному проекті запуску космічних кораблів «Морський старт»</td> </tr> <tr> <td>створення спільних підприємств</td> <td>відкриття в м. Мукачеве українсько-австрійського підприємства, що виробляє лижі</td> </tr> <tr> <td>прямі іноземні інвестиції</td> <td>пуск українською корпорацією нової лінії виробництва шоколаду на власній кондитерській фабриці в Угорщині</td> </tr> </table>	міжнародна торгівля товарами	експорт з України турбін для електростанції, що будується в Казахстані	науково-технічне співробітництво	участь України в міжнародному проекті запуску космічних кораблів «Морський старт»	створення спільних підприємств	відкриття в м. Мукачеве українсько-австрійського підприємства, що виробляє лижі	прямі іноземні інвестиції	пуск українською корпорацією нової лінії виробництва шоколаду на власній кондитерській фабриці в Угорщині	<p>Світове господарство. Регіони та країни світу. Міжнародні економічні відносини</p>
міжнародна торгівля товарами	експорт з України турбін для електростанції, що будується в Казахстані									
науково-технічне співробітництво	участь України в міжнародному проекті запуску космічних кораблів «Морський старт»									
створення спільних підприємств	відкриття в м. Мукачеве українсько-австрійського підприємства, що виробляє лижі									
прямі іноземні інвестиції	пуск українською корпорацією нової лінії виробництва шоколаду на власній кондитерській фабриці в Угорщині									
<p>48</p>	<p>Установіть відповідність між країною та характеристикою її місця на світовому ринку продукції загального машинобудування.</p> <table border="1" data-bbox="181 564 1289 750"> <tr> <td>Японія</td> <td>лідирує у виробництві та експорті промислових роботів</td> </tr> <tr> <td>Китай</td> <td>є найбільшим виробником, споживачем та імпортером верстатів</td> </tr> <tr> <td>Україна</td> <td>спеціалізується на виробництві важких недорогих металообробних верстатів</td> </tr> <tr> <td>Швейцарія</td> <td>виробляє високоточні дорогі верстати переважно на експорт</td> </tr> </table>	Японія	лідирує у виробництві та експорті промислових роботів	Китай	є найбільшим виробником, споживачем та імпортером верстатів	Україна	спеціалізується на виробництві важких недорогих металообробних верстатів	Швейцарія	виробляє високоточні дорогі верстати переважно на експорт	<p>Регіони та країни світу. Загальна характеристика країн Європи. Економіко-географічна характеристика окремих держав</p>
Японія	лідирує у виробництві та експорті промислових роботів									
Китай	є найбільшим виробником, споживачем та імпортером верстатів									
Україна	спеціалізується на виробництві важких недорогих металообробних верстатів									
Швейцарія	виробляє високоточні дорогі верстати переважно на експорт									
<p>49–52</p>	<div data-bbox="194 826 1289 1239" data-label="Figure"> <p>Суцільні горизонталі проведені через 2,5 м</p> </div> <p>На топографічній карті виміряно відстань між двома заданими точками, одна з яких розташована на шосе, а друга – на березі озера. Відстань між цими точками зіставлено з лінійним масштабом (див. рисунок). Визначте, якою буде ця відстань (у метрах) на місцевості.</p> <p>Відповідь 2800</p> <p>Визначте відносну висоту (у метрах) заданої точки на шосе щодо рівня води в озері.</p> <p>Відповідь 8</p> <p>Знайдіть на карті точку з максимальною абсолютною висотою та укажіть цю висоту (у метрах).</p> <p>Відповідь 151</p> <p>Визначте азимут, за яким рухається автомобіль по шосе, якщо відомо, що він відхиляється на 3 градуси від напрямку на схід.</p> <p>Відповідь 93</p>	<p>Способи зображення Землі. Визначення напрямків, абсолютної та відносної висоти місцевості, глибини водойм. Способи вимірювання відстаней на різних географічних і топографічних картах.</p>								
<p>53</p>	<p>Укажіть унікальні риси органічного світу Австралії, зумовлені її відокремленістю від інших материків.</p> <p>більшість видів живих організмів – ендеміки найпоширенішою рослиною є евкаліпт велика видова різноманітність сумчастих тварин</p>	<p>Австралія</p>								

54	<p>Усі наведені твердження характеризують господарство Німеччини. Виберіть серед них ті, що є ознаками постіндустріального етапу її розвитку.</p> <p>у структурі зайнятості населення переважає сфера послуг промисловість вирізняється високотехнологічною продукцією країна є великим експортером наукової продукції та капіталу</p>	<p>Регіони та країни світу. Німеччина</p>
55	<p>Укажіть особливості розвитку та розташування виробництва сталі у світі на початку XXI століття.</p> <p>збільшення частки металу, виплавленого із вторинної сировини (металобрухту) посилення ролі транспортного чинника в розташуванні металургійних комбінатів лідерство Китаю, Японії і США у світовому виробництві сталі</p>	<p>Світове господарство. Металургія</p>
56	<p>Проаналізуйте профіль поверхні території України, побудований вздовж умовної лінії, що з'єднує крайні західну й східну точки країни.</p>  <p>Укажіть характеристики рельєфу території України, яку відображено на профілі.</p> <p>переважає рівнинний рельєф – височини і низовини гірські пасма на заході країни за висотою є низькими й середніми крайня західна точка країни знаходиться на низовині</p>	<p>Природні умови і ресурси України. Рельєф</p>
57	<p>Які твердження правильно характеризують машинобудування України?</p> <p>у галузевій структурі значна частка важкого машинобудування характерна подетальна та предметна спеціалізація підприємств підприємства розташовані здебільшого у великих і середніх містах</p>	<p>Господарство України. Машинобудування</p>
58	<p>Укажіть особливості розселення населення в Україні.</p> <p>найбільша густота населення – у Донецькій області є міста з чисельністю населення понад 1 млн мешканців навколо великих міст формуються міські агломерації</p>	<p>Населення України. Розселення населення</p>